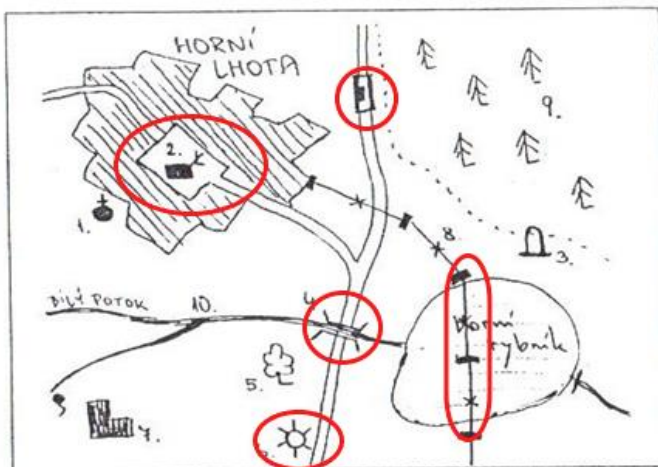


POJMENUJ:

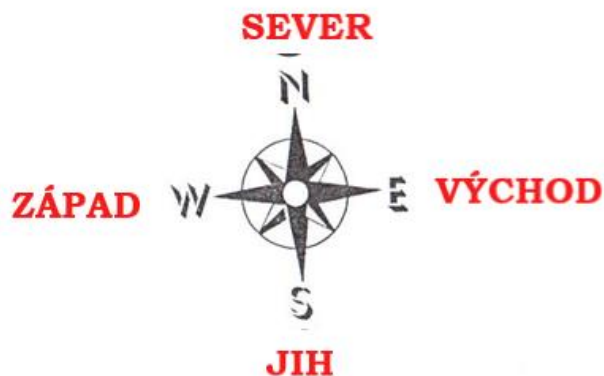
1) KAPLE	
2) MUZEUM, GALERIE	
3) HÁJOVNA, MYSLIVNA	
4) MOST	
5) ŽELEZNIČNÍ STANICE	
6) MOČÁL, BAŽINA	
7) ZŘÍCENINA	
8) VODNÍ MLÝN	
9) PROPAST	

NAJDI NA MAPĚ CHYBY

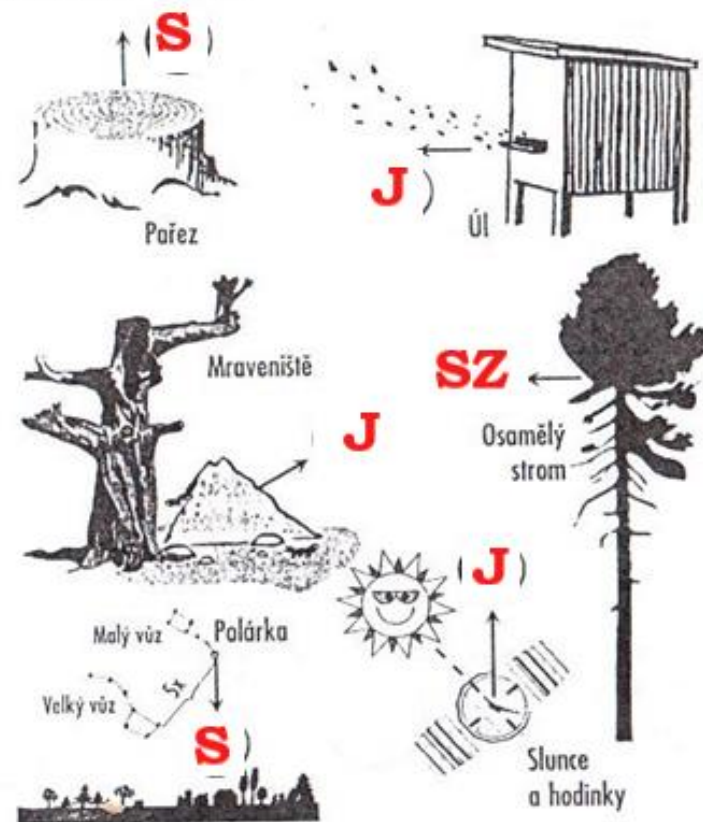


ZNÁŠ NÁZVY OZNAČENÝCH MAPOVÝCH ZNAČEK?

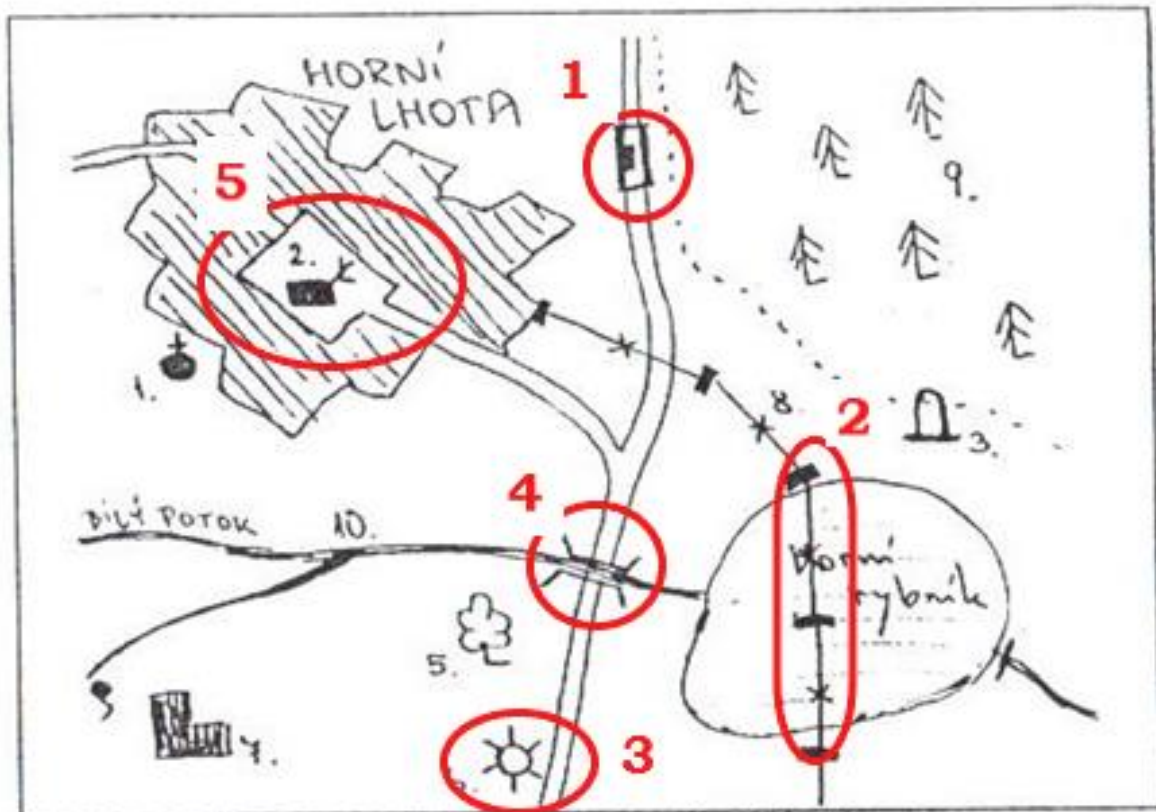
1.	KAPLE	6.	VODNÍ MLÝN
2.	HÁJOVNA	7.	ZŘÍCENINA
3.	PAMÁTNÍK	8.	ELEKTRICKÉ VEDENÍ
4.	MOST	9.	LES
5.	STROM	10.	POTOK



URČOVÁNÍ SVĚTOVÝCH STRAN PODLE PŘÍRODNÍCH JEVŮ (DOPLŇ, NA KTEROU SVĚTOVOU STRANU SMĚŘUJÍ ŠÍPKY)



NAJDI NA MAPĚ CHYBY



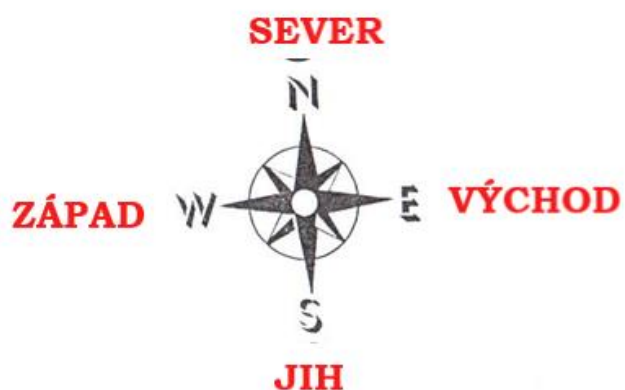
1. ŽELEZNIČNÍ STANICE NA SILNICI

2. ELEKTRICKÉ VEDENÍ PŘES RYBNÍK

3. VODNÍ MLÝN BEZ VODY

4. ŘEKA PO MOSTĚ

5. HÁJOVNA NA NÁMĚSTÍ



SEVER = NORTH

VÝCHOD = EAST

JIH = SOUTH

ZÁPAD = WEST



Veřejné

T Á B O Ř I Š T Ě
Ž E L E Z N I Č N Í

mlýn

stanice



Š A C H T A



P O M N Í K



Z Ř Í C E N I N A



J E S K Y N Ě



V R S T E V N I C E



M O Č Á L



Č E R P A C Í

stanice



T U R I S T I C K Ý

rozcestník



P R O P A S T



M U Z E U M



K A P L E



R E S T A U R A C E



Osamělé

S K Á L Y



Trigonometrický

B O D



N E M O C N I C E

Vylušti osmisměrku:

D	K	Ř	Í	Ž	P	T	R	A	S	A	T
Á	L	O	S	N	Á	S	E	P	S	E	P
L	H	A	B	R	S	U	U	Z	E	L	R
N	I	L	O	S	O	S	K	Á	M	E	N
I	R	Y	B	A	V	S	T	R	A	S	A
C	R	T	I	N	Á	C	K	O	K	O	S
E	K	Ý	Y	É	Z	O	A	M	A	P	A
A	Z	L	N	Á	N	N	R	V	O	D	A
T	M	A	S	O	A	I	M	L	O	C	I
S	V	O	K	O	Č	K	A	L	Ů	V	D
E	Y	O	Ú	L	K	Y	N	Á	N	A	B
C	K	L	E	S	A	I	N	D	I	Á	N

BANÁNY	KŘÍŽ	PES
CESTA	LES	RYBA
DÁLNIČE	LOS	RÝN
HABR	LOSOS	TRASA
INDIÁN	MAPA	TRASA
KÁMEN	MASO	ÚL
KINO	MLOCI	UZEL
KOČKA	MLÝN	VODA
KOKON	MRAK	VŮL
KOKOS	NÁSEP	

V tajence najdeš jeden z důvodů, proč se turistické a mapové značky učít!




Zdroj: ČÚZK (2018)

- Seřaď body v mapě podle nadmořské výšky od nejvyššího po nejnižší:
4, 2, 3, 1
- Které místo je položené výš – 3 nebo 1? Zdůvodni:
3, protože se potok vlévá do říčky, směr toku je naznačen šipkou
- Kterou cestu na vrchol Hradec (4) bys zvolil/a – fialovou, nebo oranžovou? Zdůvodni:
oranžovou, protože kopec je mírnější

PÁR OTÁZEK NA KONEC:

1) Napiš název:



a) **buzola**



b) **kompas**

2) Na mapě v měřítku 1:50 000 jsme naměřili vzdálenost 6 cm, kolik je to ve skutečnosti? a) 2 km **b) 3 km** c) 4 km

3) Azimut je:

a) úhel, který je sevřen mezi směrem na sever a směrem na určený nebo zvolený orientační bod nebo směrem pochodu

b) úhel mezi severním a jižním magnetickým pólem

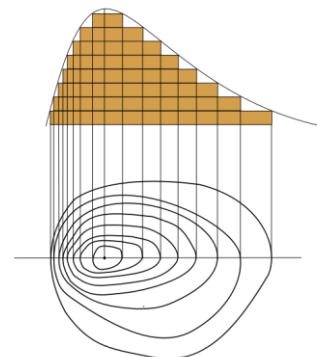
c) jméno dobyvatele severního pólu

4) Vrstevnice jsou:

a) profily naučných stezek

b) osoby se stejnými zájmy

c) křivky, které na mapě spojují body se stejnou nadmořskou výškou



5) Měřítko 1 : 50 000 znamená:

a) 1 cm na mapě = 50 000 m ve skutečnosti

b) 1 cm na mapě = 50 000 cm ve skutečnosti

c) 1 cm na mapě = 50 000 km ve skutečnosti