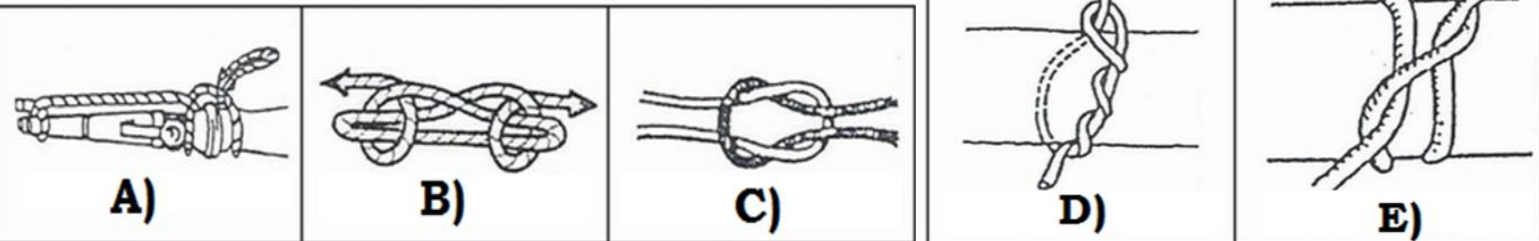


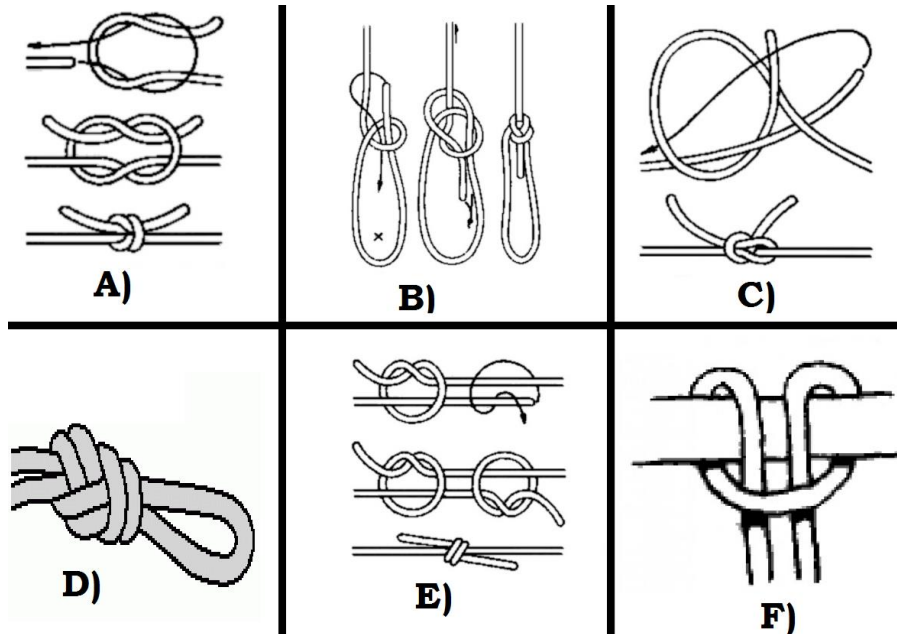
1) Pojmenuj UZLE:






A – ÚVAZ NA PROUDNICI	B – ZKRACOVAČKA	C – PLOCHÁ SPOJKA	D – TESAŘSKÝ UZEL	E – LODNÍ SMYČKA
------------------------------	------------------------	--------------------------	--------------------------	-------------------------

2) Zkus přiřadit k uzlům jejich název:


1) ambulanční	A
2) dračí smyčka	B
3) liščí smyčka	F
4) osmičkový	D
5) rybářská spojka	E
6) Škotový uzel	C



3) Napiš k uzlům jejich název:

Od pradávna se používá pro rychlý úvaz lodě k přístavnímu molu. Horolezci jej používají pro sebezajištění do karabin		LODNÍ SMYČKA
Používá se především na spoje, při kterých je nutné, aby uzel netlačil.		PLOCHÁ SPOJKA
Používá se při zvedání či tahání klád, trámů, hadic a jiných břemen. Rychle se váže i rozvazuje.		TESAŘSKÝ UZEL



4) Který uzel uvážeš, když budeš pokračovat:



LODNÍ SMYČKA



**PLOCHÁ
SPOJKA**



ZKRACOVAČKA



OSMIČKOVÝ



LIŠČÍ SMYČKA

